

تنافسي ديبلوم

المادة : سياسات نقدية ومالية

س1/ عرف خمسة مما يأتي : (30 درجة)


السياسة النقدية ، التضخم ، سعر الخصم ، السوق المفتوحة ، النقود ، البنك المركزي .

س2/ ضع سياسة نقدية - مالية لمعالجة التضخم في الاقتصاد . (40 درجة)

س3/ اختر الاجابة الصحيحة : (30 درجة)

- 1- يحدث فح السيولة عندما يكون الطلب على النقود ----- (أ- تام المرونة ، ب- عديم المرونة ، ج- احادي المرونة)
- 2- تكون السياسة النقدية توسعية عندما يكون ----- (أ- ارتفاع في عرض النقد ، ب- انخفاض في عرض النقد ، ج- ليس ما سبق)
- 3- من خصائص النقود ----- (أ- التجانس ، ب- قابليتها للتجزئة ، ج- دائمة البقاء ، د- كل ما سبق)
- 4- تكون العلاقة بين عرض النقد وسعر الفائدة ----- (أ - طردية ، ب- عكسية ، ج- تناسبية)
- 5- عندما يكون الطلب على النقود اكبر من عرض النقد فان معدل الفائدة ----- (أ- يرتفع ، ب- ينخفض ، ج- يبقى دون تغيير)

د . كاظم الاعرجي


د. كاظم الاعرجي

أسئلة الامتحان التنافسي لمادة الاقتصاد الكلي - الدبلوم العالي - للعام الدراسي 2023-2024

س1: اجب بصح او خطأ امام العبارات الاتية:

- 1- إن التغير في الناتج القومي لا يعطي صورة صحيحة ودقيقة عن الزيادة التي تحدث في الإنتاج مالم يتم معرفة التغيرات في الأسعار.
- 2- إن دالة الاستهلاك (العلاقة بين الدخل والاستهلاك) تُعزى الى حد كبير لمساهمة فريدمان.
- 3- التغير الذي يحدث في أسعار الفائدة يؤدي الى الانتقال على منحني الاستثمار نفسه ومن نقطة الى نقطة أخرى.
- 4- نوعية الموارد الطبيعية وتوفرها تؤثر بشكل واضح في الناتج القومي.
- 5- وفقاً للنظرية التقليدية الحديثة للاستثمار فإن سعر الفائدة هو المحدد الرئيس لرصيد رأس المال المرغوب.

س2: اختر الإجابة الصحيحة لكل مما يأتي:

- 1- توضح دالة الاستهلاك العلاقة بين
 - أ- الدخل وسعر الفائدة
 - ب- الدخل القومي والناتج القومي
 - ج- الدخل والاستهلاك
- 2- أي الحالات الاتية تمثل حالة توازن للدخل
 - أ- الادخار المخطط يساوي الاستثمار المخطط
 - ب- الدخل الكلي يساوي الانفاق المخطط
 - ج- المخزون السلعي = 0
- 3- صافي الاستثمار هو
 - أ- اجمالي الاستثمار مطروحاً منه اهتلاك رأس المال
 - ب- الفرق بين اجمالي الناتج القومي واجمالي الناتج المحلي
 - ج- اجمالي الاستثمار زائداً اهتلاك رأس المال
- 4- في ظل النظرية الحديثة للاستثمار فإن رأس المال المرغوب ومن ثم الاستثمار يعتمد على
 - أ- مستوى الدخل
 - ب- مستوى الأرباح
 - ج- مستوى الأرباح المتحققة
- 5- تمثل من اهم الأدوات التي تستخدمها السياسة النقدية في الدول المتقدمة للتأثير في النشاط الاقتصادي
 - أ- سعر الفائدة
 - ب- سعر الخصم
 - ج- عمليات السوق المفتوحة

س3: وضح الفرق بين كل مما يأتي:

- 1- الناتج القومي الصافي بسعر الكلفة والناتج المحلي الصافي
- 2- التضخم المكبوت والتضخم الجامح
- 3- الميل الحدي للاستهلاك والميل الحدي للادخار

امنياتكم بالتوفيق والنجاح

أ.م. د. سلطان جاسم النصراوي

كولون حسن عبد الكافي سلمان

اسئلة الامتحان التنافسي لطلبة الدبلوم العالي — قسم اقتصاديات الاستثمار ودراسات الجدوى
المادة: تقييم الاداء الاقتصادي
العام الدراسي 2024-2023

س1// ضع كلمة صح او خطأ امام العبارات الاتية:-


- 1- ان الهدف من عملية التقييم هو قياس صافي المنافع الاقتصادية المتحققة من المشروع لغرض القبول او الرفض.
- 2- يطلق على عملية الفحص المنظمة لما يحققه العامل ب تقييم الاداء الوظيفي.
- 3- تحصل الانحرافات التخطيطية عن مقارنة النتائج الفعلية مع ما مخطط لها خلال فترات سابقة.
- 4- يعد معيار انتاجية العمل، احد المعايير الكلية التي تستخدم في تقييم الاداء.
- 5- توضح الطاقة التصميمية، القدرة التصميمية للمكانن والالات والمعدات.
- 6- تستخدم المعايير المرتبطة بالكفاءة لغرض تحديد مدى نجاح الوحدة الاقتصادية في تحقيق اهدافها.


س2// اختر الاجابة الصحيحة لكل مما يأتي:-

- 1- ان عملية الاختيار بين المشاريع بالنسبة للمستثمر في القطاع الخاص تعتمد على الارباح (المباشرة وغير المباشرة، المباشرة، الاقتصادية، كل ماسبق)
- 2- ان الهدف من التقييم على المستوى الاقتصادي الوطني هو قياس العائد (الاقتصادي، الاجتماعي، المالي، كل ماسبق)
- 3- يهدف هذا النوع من التقييم الى تحديد كفاءة وقدرات الوحدات الادارية، هو تقييم الاداء (الوظيفي، المالي، الاداري، الجدوى الاقتصادية)
- 4- من المراحل التي تمر بها عملية تقويم الاداء هي (وضع الخطة الانتاجية، جمع البيانات، تحديد الاهداف، تحديد المعايير)
- 5- ان التقييم الذي يشخص الاختلالات ودرجة توظيف الموارد هو تقويم الاداء (القياسي، المخطط، الشامل، الفعلي)
- 6- من المعايير التي تستخدم لغرض معرفة انتاجية العامل هي (الانتاج، التكاليف، القوى العاملة، الانتاجية)

س3// اجب عن الاتي على ان لا تتجاوز الاجابة 6 اسطر

- 1- الاختلاف الجوهرى بين التقييم والتقويم ودراسات الجدوى.
- 2- من مستويات التقييم، التقييم على مستوى الاقتصاد القومي.
- 3- من المبررات التي تدعو الى الاهتمام بدراسات الجدوى هي اختلاف اهداف عملية التنمية الاقتصادية والاجتماعية.
- 4- الاختلاف بين الانتاجية والكفاءة الانتاجية وتقويم الاداء.


أ.د. صفاء عبد الجبار الموسوي
رئيس القسم


أ.م.د. سلام كاظم الفتلاوي
استاذ المادة

استثمار ودراسات جدوى

- س(١) : وضح مفهوم السعر الاقتصادي، وبيان اسباب انحراف الاسعار السوقية عن الاسعار الاقتصادية ؟
س(٢) ما هي العوامل التي تؤثر عند اختيار الموقع الملائم للمشروع ؟

س(٣) ضع علامة صح او خطأ :

- ١- اسعار الظل هي تلك الاسعار التي تسود في حالة التوازن العام في سوق المنافسة التامة وهي مساوية لقيمة الانتاجية الحدية.
٢- الانفاق على الاعلان يتزايد تأثيره على الطلب مع مرور الزمن. ✓
٣- تعد الضرائب المفروضة بمثابة تكاليف اضافية على الانتاج يتحملها المنتج فقط. ✗
٤- تعتبر الاحتياطات النقدية جزء من الارباح التي تستخدم عند ارتفاع التكاليف الانتاجية. ✓
٥- الهدف من التدفقات النقدية هو معرفة مقدار السيولة والقدرة على الايفاء بالالتزامات. ✓
٦- السعر الاحتكاري يكون مساوي للتكلفة الحدية لتحقيق الارباح وهذا يؤدي الى زيادة اسعار السوق عن السعر الاقتصادي. -

أ.م.د زينب هادي نعمه

استاذ المادة

أ.د صفاء الموسوي

رئيس القسم



20/6/2023

الامتحان التنافسي لمرحلة الدبلوم/ مادة اقتصاديات استثمار للعام الدراسي 2023-2024

س1/ حدد الإجابة الصحيحة لكلاً مما يأتي: -

1. العلاقة بين الضرائب والاستثمار
 - أ- علاقة طردية
 - ب- علاقة قوية
 - ت- علاقة عكسية
 - ث- ليس مما سبق
2. نظرية معجل الاستثمار او مبدأ المعجل تفترض وجود نسبة ثابتة بين راس المال و.....
 - أ- الإنتاجية
 - ب- الأرباح
 - ت- الناتج
 - ث- ليس مما سبق
3. نظرية الأرصدية الداخلية تعد بيع السندات والأسهم من مصادر التمويل
 - أ- الداخلي
 - ب- الخارجي
 - ت- المختلطة
 - ث- ليس مما سبق.
4. يُعرف الاستثمار المالي بأنه الاستثمار في
 - أ- الأسهم والسندات
 - ب- المباني والأراضي
 - ت- المشاريع فقط
 - ث- كل ما سبق

س2/ بين مفهوم الاستثمار؟ ومحدداته؟ مع رسم بياني لدالة الاستثمار؟ 30

س3/ ما هي العلاقة بين الاستثمار وسعر الفائدة بين ماذا يحصل في حالة :-

- أ- ارتفاع سعر الفائدة 15
- ب- انخفاض سعر الفائدة 15

مع تمنياتي بالنجاح

أ.م.د. شيماء رشيد



اسئلة الامتحان التنافسي للطلبة المتقدمين لدراسة الدبلوم العالي في اقتصاديات الاستثمار

المادة اقتصاد جزئي للعام الدراسي 2023-2024

س1/ وضح مع الرسم تأثير التغيرات الاتية على توازن السوق (العرض والطلب) وعلى القيم التوازنية (P, Q)

- 1- زيادة العرض والطلب بنفس المقدار
- 2- انخفاض العرض وزيادة الطلب بنفس المقدار
- 3- زيادة الطلب بنسبة اكبر من زيادة العرض
- 4- زيادة الطلب مع ثبات العرض
- 5- زيادة العرض مع ثبات الطلب

س2/ اختر الاجابة الصحيحة لكل مما ياتي:

- 1- اذا تغير السعر ولم يؤدي الى تغير الكمية المطلوبة فان الطلب سيكون
- مرن - عديم المرونة - احادي المرونة - ليس اي مما سبق
- 2- اذا فرضت الدولة ضريبة على انتاج سلعة معينة فان ذلك يؤدي الى.....
- انخفاض الكمية المعروضة - انخفاض الكمية المطلوبة - انخفاض الطلب - انخفاض العرض
- 3- عند الاستمرار في استهلاك سلعة معينة فان.....
- المنفعة الكلية تتناقص - المنفعة الحدية تتزايد - المنفعة الحدية تتناقص - ليس اي مما سبق
- 4- يكون اذا كان منحنى السواء عبارة عن خط مستقيم فان الاحلال سيكون
- متزايد - متناقص - ثابت - ليس اي مما سبق
- 5- عند انخفاض الطلب مع زيادة العرض بنفس المقدار فان النتيجة هي
- عدم تغير السعر والكمية - زيادة كل من السعر والكمية - انخفاض السعر وانخفاض الكمية - انخفاض السعر وثبات الكمية
- 6- عندما يكون الطلب عديم المرونة فان ارتفاع الاسعار يؤدي الى.....
- زيادة ايراد المنتج - انخفاض ايراد المنتج - عدم تغير الايراد - ليس أي مما سبق
- 7- تكون العلاقة بين الكلفة الحدية الناتج الحدي.....
- طردية - عكسية - لا توجد علاقة - ليس أي من الاجابات
- 8- من خصائص منحنيات الناتج المتساوي.....
- محدبة تجاه نقطة الأصل - تنحدر من اعلى اليسار الى اسفل اليمين - منحنيات السواء لا تتقاطع - جميع الاجابات
- 9- ينتقل منحنى الطلب على سلعة (ينتقل للاعلى) عندما.....
- يرتفع الضرائب المفروضة على السلعة - يزداد سعر السلعة نفسها - يزداد دخل المستهلك - انخفاض سعر السلعة
- 10- في سوق المنافسة التامة في الاجل الطويل يحقق المنتج.....
- ارباح اعتيادية - خسارة - ارباح اقتصادية - كل ما سبق

ا.د. صفاء الموسوي
رئيس القسم

ا.م.د. خضير عباس الوائلي
أستاذ المادة